

Adı Soyadı / No :

Yönerge (Açıklama)

1. İlk 16 soru Çoktan Seçmeli Sorulardan oluşmaktadır. Her sorunun değeri 5 puandır.
2. 17. soru Doğru-Yanlış sorusudur. Soruların toplam değeri 5 puandır.
3. 18. soru Tanım sorusudur. Sorunun değeri 5 puandır.
4. 19. soru Boşluk Doldurma sorusudur. Soruların toplam değeri 10 puandır.

SORULAR

1) Aşağıdakilerden hangisi bilimsel araştırma basamaklarına uygun bir yaklaşım değildir?

- A) Araştırmak istediğimiz konuyu belirlemek ve konuyu sınırlandırmak
- B) Yaralandığımız kaynakları dipnot ve kaynakça olarak göstermek
- C) Varsayımı (hipotez) test etmek
- D) Ulaştığımız her bilgiyi doğru olarak kabul etmek

2) Eski Türklerde kadınının toplum içinde saygın bir yeri vardı. Kadınlar da erkekler gibi hükümdar, vali, elçi olabiliyorlar, kararlara katılabiliyorlardı. Devlet makamında alınmış kararlar,

"Hakan ve Hatun emrediyor ki" diye başlardı.

Bu parçada dile getirilen görüş aşağıdakilerin hangisine bir kanıttır?

- A) Kadınların toplumsal değişimi sağladığına
- B) Kadınların yönetim işlerinde sorumluluk aldığına
- C) Yaşamda ailenin önemli görüldüğüne
- D) Kalkınmada kadın eğitime önem verildiğine

3) Devletin asli görevleri vatandaşların eğitim, sağlık ve güvenlik ihtiyaçlarını karşılamaktır. Bu hizmetlerin vatandaşlara düzenli ve zamanında ulaştırılabilmesi için devletin bir kaynağa ihtiyacı vardır.

Devletin vatandaşların ihtiyaçlarını karşılamak için yine vatandaşlardan sağladığı bu kaynak aşağıdakilerden hangisidir?

- A) Vergi
- B) Sermaye
- C) Para Cezaları
- D) Yatırım

4) Ben ikna gücü yüksek olan ve insanlarla iyi iletişim kurabilen bir kişiyim. Herhangi bir konuda insanları, rahat ikna edebilirim.

Bu kişilik özelliklerine sahip olan bir kişiye, aşağıdaki mesleklerden hangisinin uygun olduğu söylenebilir?

- a) Pazarlamacılık
- b) Mimarlık
- c) Heykeltıraşlık
- d) Ressamlık



5)Yeni bir buluşum var. Bunu yasal yollardan güvence altına almam için aşağıdakilerden hangisini yapmam gerekir?

- a) Yurt dışında satmalıdır.
- b) Patentini almaz.
- c) Çok sayıda üretmelidir.
- d) Devlet tarafından satın alınmalıdır

6) - Ülkeyi bir kral yönetir.
- Devletin yönetiminde dini kurallar geçerlidir.
- Yönetimde söz sahibi olmak için belli bir gruba ait olmak gerekir.

Yukarıda aşağıda verilen hangi yönetim şekli ile ilgili bir bilgi yoktur?

- A) Oligarşi
- B) Teokrasi
- C) Demokrasi
- D) Monarşi

| | |
|-------------|---|
| Tarım | Düz, geniş ve verimli ovalarda |
| Turizm | Zengin tarihi ve doğal güzellikleri olan yerlerde |
| Hayvancılık | Yüksek ve dağlık alanlardaki gür otlaklarda |
| Ormancılık | İç kısımlarda ve kurak yerlerde |

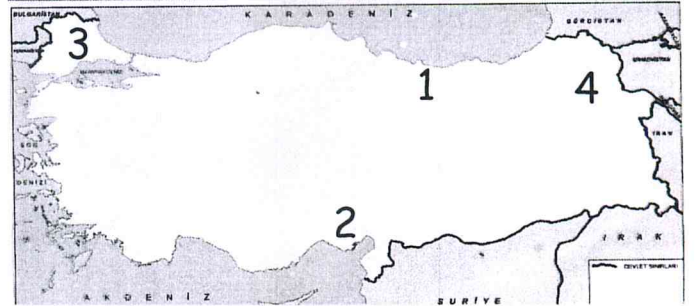
7) Yukarıdaki ekonomik faaliyet ve yapıldığı yer eşleştirmelerinden hangisi yanlıştır?

- A) Tarım
- B) Turizm
- C) Hayvancılık
- D) Ormancılık

8) Gazneli Mahmut, Biruni için, "sarayımın en değerli hazinesi" demiştir.

Bu durum aşağıdakilerden hangisine kanıt olarak gösterilebilir?

- a) Biruni'nin çok sayıda bilimsel eser yazdığına
- b) Gaznelilerin bilim ve kültür alanında en ileri devlet olduğuna
- c) Gaznelilerin saray yapımına önem verdiğine
- d) Bilim insanlarının hükümdarlar tarafından desteklendiğine



9) Yukarıdaki Türkiye haritasında numaralarla gösterilen yerlere sanayi tesisi kurulacaktır.

Sanayi tesislerinin ham maddesi kurulduğu bölgeden karşılanacağına göre, numaralandırılmış yerlere hangi fabrikalar kurulmalıdır?

| | 1 | 2 | 3 | 4 |
|----------------|--------|--------------|--------------|---|
| A)Demir-Çelik | Fındık | Balık | Otomotiv | |
| B)Dokuma | Kağıt | Süt | Çay | |
| C)Fındık yağı | Dokuma | Ayçiçek yağı | Süt ürünleri | |
| D)Ayçiçek yağı | Kağıt | Dokuma | Süt | |

10) İlk Türk devletlerinde evlenen kız ve erkeğe düğün töreni yapılması, kutlamalarda davul ve zurna kullanılması gibi uygulamalar günümüz Türk toplumunda da görülmektedir.

Bu durum aşağıdakilerden hangisine örnek olarak gösterilebilir?

- a) Anadolu'da güçlü devletler kurulduğunun
- b) Türk sanatının evrenselliğine
- c) Türklerin gelenek ve göreneklerine bağlı olduğuna
- d) Türkler arasında İslamiyet'in yayıldığına

11) İçinde insanı ilgilendiren ve topluma ait tüm unsurların incelendiği tarih, coğrafya, sosyoloji, felsefe, hukuk gibi bilim dallarının genel adına "sosyal bilimler" denilmektedir. Buna göre aşağıdakilerden hangisi sosyal bilimlerin inceleme alanına girmez?

- A) Ülkemizin doğal kaynakları
B) Toplumsal gelişmenin seyri
C) Kurtuluş Savaşı'nın sonuçları
D) Organ nakli yöntemlerinin geliştirilmesi

12) Nitelikli elemanlar işini en iyi şekilde yapan, işlerinin özelliklerini bilen, eğitim görmüş kişilerdir.

Aşağıdakilerden hangisi nitelikli elemanın ülke ekonomisi açısından yararları arasında gösterilemez?

- A) Daha fazla enerji ve zaman harcanarak üretim sağlanır. B)
Teknolojik alanın yabancı ülkelere bağımlı olması önlenir.
C) Malzeme ve emekten tasarruf sağlanır.
D) Ulusal gelirin gereksiz yere harcanması önlenir.

13)

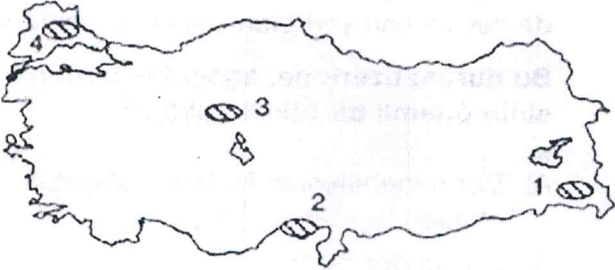
?

- Devlet Su İşleri
- Ziraat Bankası
- Toprak Mahsulleri Ofisi
- Tarım İşletmeleri Genel Müdürlüğü
- Tarım Kredi ve Tarım Satış Kooperatifleri

Yukarıda verilen maddelere verilebilecek en uygun başlık aşağıdakilerden hangisidir?

- a) Türkiye'de Tarımı Destekleyen Kurumlar
b) Türkiye'deki Tarımın Başlıca Sorunları
c) Tarımsal Verimi Artıran Faktörler
d) Atatürk Döneminde Kurulan Tarımsal İşletmeler

14) Yurdumuzda seracılık, kışları ılık ve bol güneşli geçen iklim bölgelerinde yapılan bir faaliyettir.



Buna göre, haritadaki taralı yörelerin hangisinde seracılık faaliyetlerinin yapılması en kolaydır?

- a) 1 b) 2 c) 3 d) 4

15) Aşağıda yer alan ürünlerden hangisi ülkemizin ihracatında önemli bir yere sahiptir?

- A) Hazır giyim eşyaları (Tekstil) B) Eczacılık ürünleri
C) Doğal gaz D) Petrol

16) Aşağıdaki madenlerden hangisinin Dünya genelindeki rezervlerinin büyük bölümü ülkemizde bulunmaktadır?

- a) Bor mineralleri b) Petrol
c) Çinko d) Krom

17) Aşağıdaki sorular "DOĞRU-YANLIŞ" sorularıdır. Verilen önerme doğru ise parantez içine (D) yanlış ise (Y) yazınız.

- a) (Y) Demokrasi'de devletin tüm kurumları halkın seçtiği yöneticilerin kontrolindedir.
b) (Y) Yabancı bir ülkeden mal alınmasına ihracat denir.
c) (X) Devletin din kurallarına göre yönetilmesine demokrasi denir.
d) (Y) Ülkemizde yetişme alanı ve üretim miktarı en fazla olan muzdur.
e) (D) Fındığın en çok yetiştiği bölgemiz Karadeniz'dir.

18) Aşağıdaki sorular "TANIM" sorularıdır. Kavramın tanımını, açıklamasını karşısına yazınız.

Telif: Bir yazının, bilim ya da sanat yaratıcı yaratılan kişinin, bu yaratıcıya ilgili hakların tümü

Vergi: Kamu hizmetlerine harcanmak üzere devletin, yerel yönetimlerin yasalarla göre doğrudan doğruya ya da kişi maddelerini hizmetlerin fiyatları altına etkenleret dalgıllı yolla vatandaşlardan toplanan para.

19) Aşağıdaki sorular "BOŞLUK DOLDURMA" sorularıdır. Boş bırakılan yere uygun olan sözcükleri, kavramları yazınız.

Meslek / Maden / Marmara / Rezerv / Karahanlılar

- a) Ülkemizde, sanayi tesislerinin en yoğun olduğu yer Marmara Bölgesi'dir..
b) İnsanların geçimini sağlamak için yaptığı sürekli işe meslek denir.
c) İslamiyet'i kabul eden ilk Türk devleti Karahanlılar'dir.
d) Yeraltında bulunan ve ekonomik değer taşıyan maddelere Rezerv denir.
e) Bir madenin yeraltında bulunan toplam miktarına Rezerv denir.

| | | |
|--------------|--|--------------|
| Adı: | 2018-2019 ... ORTAOKULU | TARİH: |
| Soyadı: | 6.SINIFLAR 2. DÖNEM 1. SOSYAL BİLGİLER | Aldığı Puan: |
| Sınıfı - No: | YAZILI SINAV SORULARI | |

A-AŞAĞIDAKİ CÜMLELERDEN BOŞ BIRAKILAN YERLERE YANDAKİ KUTUDA BULUNAN UYGUN KELİMELERİ YAZINIZ (20 PUAN)

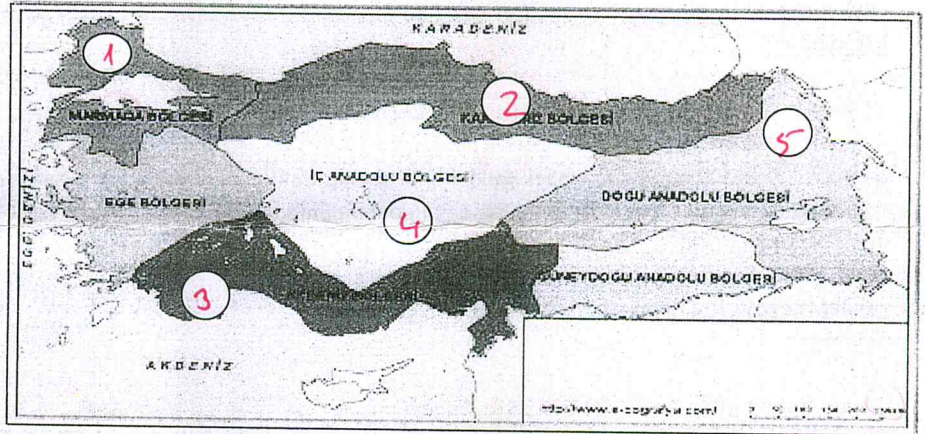
- KARAHANLILAR
- MELİKŞAH
- MALAZGİRT
- İHRACAT
- NİZAMÜL MÜLK
- VERGİ
- GÖKTÜRK
- MARMARA
- SİVAS
- SİYASETNAME
- KAŞGARLI MAHMUT
- NEVRUZ
- İTHALAT
- ZONGULDAK
- MİRYOKEFALON

- Büyük Selçuklular Devletini en ünlü veziri *Nizamiülmülk* dır.
- Orhun yazıtları *Göktürk* devletine aittir.
- Kümes Hayvancılığı en fazla *Marmara* Bölgesinde yapılmaktadır.
- Baharın gelişini müjdeleyen bayram *Nevrus* dır.
- Petrol ülkemizde yeterli çıkarılamadığı için petrol en önemli *ithalat* ürünlerimizden biridir.
- Büyük Selçuklu Hükümdarı Alparslan döneminde yapılan *Malazgirt* Savaşıyla Anadolu'nun kapıları Türklere açılmıştır.
- Ülkemizde taş kömürü en fazla *Zonguldak* ilinde çıkarılmaktadır.
- İslamiyet'i kabul eden ilk Türk devleti *Karahanlılar* dır.
- Fındık üretiminde ülkemiz dünyada birinci sırada olduğundan fındık önemli *ihraçat* ürünlerimizdendir.
- Vatandaşların kazandığı paranın belli oranını yatırım ve hizmet yapabilmesi için devlete vermesine *vergi* denir.

B- Büyük bir şirketin patronusunuz. Yurdumuzun değişik bölgelerinde yatırımlarda bulunacaksınız. Yatırımda bulunacağınız fabrikalar aşağıda belirtilmiş. Ulaşım, hammadde, su, enerji gibi koşulları dikkate alarak fabrikalarınızı harita üzerinde belirtilmiş yerlerden hangisinde kurmanızın uygun olacağını fabrikanın önündeki rakamı yazarak belirtiniz.

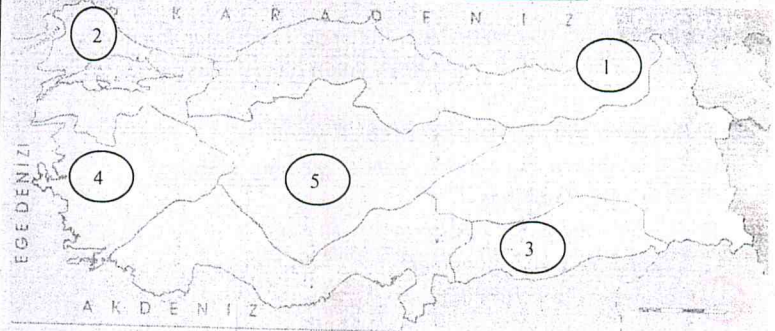
(10 puan)

- Ayçiçeği Sıvı Yağ Fabrikası.
- Kağıt Fabrikası.
- 5 yıldızlı bir otel.
- Un Fabrikası.
- Büyükbaş Hayvan Et Kesim Kombinası.



C- Aşağıdaki Türkiye haritası üzerinde verilen rakamı aşağıda verilen tabloda uygun yere yazınız. (10 puan)

| Buğday | Ayçiçeği | Çay | Pamuk | Zeytin |
|--------|----------|-----|-------|--------|
| | | | | |
| 5 | 2 | 1 | 3 | 4 |



D-Kullandığımız kaynakların bazıları tükenen ve aşırı kullanıldıklarında doğaya zarar veren kaynaklardı. Bazı kaynaklarımız ise yenilenebilir ve doğaya zararı olmayan kaynaklardır. Sizden bu kaynakları verilen şablon üzerinde sınıflandırmanızı istiyoruz. (Güneş-Doğalgaz-Taşkömürü-Jeotermal-Linyit-Rüzgar-Petrol-Su)

(10 puan)

Enerji Kaynakları

Yenilenemez Kaynaklar

Yenilenebilir Kaynaklar

T. Kömür Petrol - Doğalgaz - Linyit -

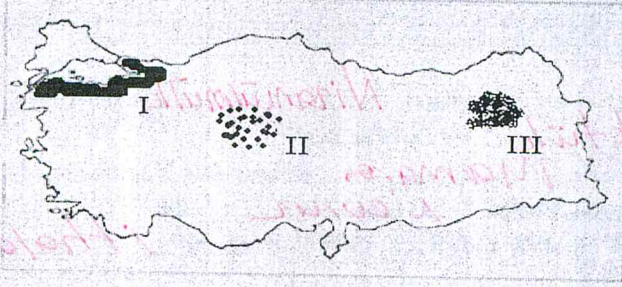
Rüzgar jeotermal

Güneş

Su

F- Aşağıdaki test sorularını işaretleyiniz (50 puan)

1-



Yukarıda Türkiye haritası üzerinde işaretlenmiş alanlarda hangi türde hayvancılık yapılmaktadır?

I II III

- A) Küçükbaş Büyükbaş Kümes
B) Büyükbaş Küçükbaş Kümes
C) Kümes Küçükbaş Büyükbaş
D) Kümes Büyükbaş Küçükbaş

2- * Dünya üzerinde rezerv bakımından en çok Türkiye'de bulunur.

* Roket yakıtı, otomotiv sanayi ve elektronik sanayinde kullanılır.

* Geleceğin madeni olarak nitelendirilir.

Yukarıda özellikler verilen maden aşağıdakilerden hangisidir?

- A) Demir B) Bor C) Linyit D) Krom

3- Hammaddesi tarım olan sanayi kollarının Türkiye'deki dağılışı; bölgeler arasındaki iklim farklılıklarından dolayı değişiklikler görülür.

Buna göre; Karadeniz Bölgesinin kıyı kesiminde aşağıda verilen sanayi kollarının hangisinin en az gelişmesi beklenir?

- A) Un Fabrikaları B) Kereste Sanayi
C) Fındık İşletmeleri D) Çay Fabrikaları

4- Bir girişimci ülkemizin bazı illerinde fabrikalar kurmak istemektedir. Ürünün fabrikaya yakın olması ulaşım masrafını azaltacaktır.

Buna göre girişimcinin seçeceği il ve ürün aşağıdakilerden hangisinde yanlış verilmiş olabilir?

- A) Rize- Çay Fabrikası
B) Murgul- Bakır Fabrikası
C) Erzurum- Et ve Et ürünleri
D) Antalya- Fındık fabrikası

5- Hz. Muhammed'in vefatından sonra Dört Halife dönemi başladı İslam tarihinde bu döneme " Cumhuriyet Dönemi" de denilmiştir.

Bu durumun nedeni aşağıdakilerden hangisi olabilir?

- A) Ülke sınırlarının genişlemesi
B) Devlet teşkilatlarının oluşturulması
C) Halifelerin seçimle iş başına gelmesi
D) Kur'an-ı Kerim'in kitap haline getirilmesi.

6- Güzel bir fikir. Anlaştık. Böylelikle işleyerek yağ elde edeceğimiz ayçiçeğini bu bölgeden ucuza alabiliriz.

Yağ fabrikasını Trakya'ya kurarsak nasıl olur?



Yukarıda fabrikasını belirlemesinde aşağıdakilerden hangisi öncelikli göz önünde bulundurulmuştur?

- A) İç bölgelere yakınlık
B) Su kaynaklarına yakınlık
C) Ham madde üretim alanlarına yakınlık
D) Enerji kaynaklarına yakınlık

7-

Karahanlı Devleti zamanında yaşadım. Türkçenin zenginliğini ve Arapça ile Farsça yanındaki değerini ispatlamak amacıyla Divan-ı Lügat'ti Türk adlı eserimi yazdım. Ben Kimim?

Yaptığım 17 seferimle İslamiyet'i Hindistan'a yayışım ve sultan ünvanını ilk kullanan Türk oluşum bilinen en önemli özelliklerimdir? Ben Kimim?

Adı geçen Türk büyükleri hangi şıkta doğru verilmiştir?

- A) Yusuf Has Hacip, Kaşgarlı Mahmut
B) Kaşgarlı Mahmut, Gazneli Mahmut
C) Gazneli Mahmut, Ahmet Yesevi
D) Yusuf Has Hacip, Gazneli Mahmut

8-



Yukarıdaki kavram haritasında hangi savaşın sonuçları verilmiştir.

- A) Pasinler Savaşı B) Dandanakan Savaşı
C) Talas Savaşı D) Miryokefalon Savaşı

9- I. Yerleşik hayata geçen ilk Türk devletidir.

II. Türk adını ilk kez devlet adı olarak kullanmışlardır.

III. Bilinen ilk Türk devletidir.

Yukarıda özellikleri verilen Orta Asya Türk devletleri aşağıdakilerden hangisinde doğru şekilde verilmiştir?

- | | | |
|------------|-----------|---------|
| I | II | III |
| A) Uygur | Hun | Kırgız |
| B) Hun | Uygur | Göktürk |
| C) Göktürk | Karahanlı | Uygur |
| D) Uygur | Göktürk | Hunlar |

10- Aşağıdakilerden hangisi bir yatırımcının dikkat etmesi gereken hususlardan biri değildir?

- A) Hammaddeye yakınlık B) Doğal güzellikler
C) Pazarlama olanakları D) Ulaşım

Adı Soyadı / No :

Yönerge (Açıklama)

1. İlk 16 soru Çoktan Seçmeli Sorulardan oluşmaktadır. Her sorunun değeri 5 puandır.
2. 17. soru Doğru-Yanlış sorusudur. Soruların toplam değeri 5 puandır.
3. 18. soru Tanım sorusudur. Sorunun değeri 5 puandır.
4. 19. soru Boşluk Doldurma sorusudur. Soruların toplam değeri 10 puandır.

SORULAR

1) Aşağıdakilerden hangisi bilimsel araştırma basamaklarına uygun bir yaklaşım **değildir**?

- A) Araştırmak istediğimiz konuyu belirlemek ve konuyu sınırlandırmak
B) Yaralandığımız kaynakları dipnot ve kaynakça olarak göstermek
C) Varsayımı (hipotez) test etmek
D) Ulaştığımız her bilgiyi doğru olarak kabul etmek

2) Eski Türklerde kadınının toplum içinde saygın bir yeri vardı. Kadınlar da erkekler gibi hükümdar, vali, elçi olabiliyorlar, kararlara katılabiliyorlardı. Devlet makamında alınmış kararlar,

"Hakan ve Hatun emrediyor ki" diye başlardı. **Bu parçada dile getirilen görüş aşağıdakilerin hangisine bir kanıttır?**

- A) Kadınların toplumsal değişimi sağladığına
B) Kadınların yönetim işlerinde sorumluluk aldığına
C) Yaşamda ailenin önemli görüldüğüne
D) Kalkınmada kadın eğitime önem verildiğine

3) Devletin asli görevleri vatandaşların eğitim, sağlık ve güvenlik ihtiyaçlarını karşılamaktır. Bu hizmetlerin vatandaşlara düzenli ve zamanında ulaştırılabilmesi için devletin bir kaynağa ihtiyacı vardır.

Devletin vatandaşların ihtiyaçlarını karşılamak için yine vatandaşlardan sağladığı bu kaynak aşağıdakilerden hangisidir?

- A) Vergi
B) Sermaye
C) Para Cezaları
D) Yatırım

4) Ben ikna gücü yüksek olan ve insanlarla iyi iletişim kurabilen bir kişiyim. Herhangi bir konuda insanları, rahat ikna edebilirim.

Bu kişilik özelliklerine sahip olan bir kişiye, aşağıdaki mesleklerden hangisinin uygun olduğu söylenebilir?

- a) Pazarlamacılık
b) Mimari
c) Heykeltıraşlık
d) Resimcilik

5) Yeni bir buluşum var. Bunu yasal yollarda önce altın almam için aşağıdakilerden hangisini yapmam gerekir?

- a) Yurt dışında satmalıdır.
b) Patentini almamalıdır.
c) Çok sayıda üretmelidir.
d) Devlet tarafından satın alınmalıdır

6) - Ülkeyi bir kral yönetir.
- Devletin yönetiminde dini kurallar geçerlidir.
- Yönetimde söz sahibi olmak için belli bir gruba ait olmak gerekir.

Yukarıda aşağıda verilen hangi yönetim şekli ile ilgili bir bilgi yoktur?

- A) Oligarşi
B) Teokrazi
C) Demokrasi
D) Monarşi

| | |
|-------------|---|
| Tarım | Düz, geniş ve verimli ovalarda |
| Turizm | Zengin tarihi ve doğal güzellikleri olan yerlerde |
| Hayvancılık | Yüksek ve dağlık alanlardaki gür otlaklarda |
| Ormancılık | İç kısımlarda ve kurak yerlerde |

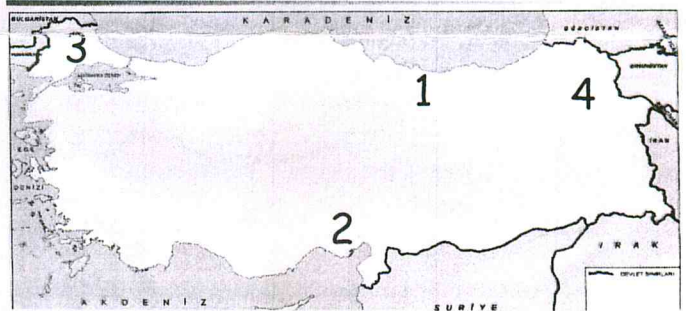
7) Yukarıdaki ekonomik faaliyet ve yapıldığı yer eşleştirmelerinden hangisi **yanlıştır**?

- A) Tarım
B) Turizm
C) Hayvancılık
D) Ormancılık

8) Gazneli Mahmut, Biruni için, "sarayımın en değerli hazinesi" demiştir.

Bu durum aşağıdakilerden hangisine kanıt olarak gösterilebilir?

- a) Biruni'nin çok sayıda bilimsel eser yazdığına
b) Gaznelilerin bilim ve kültür alanında en ileri devlet olduğuna
c) Gaznelilerin saray yapımına önem verdiğine
d) Bilim insanlarının hükümdarlar tarafından desteklendiğine



9) Yukarıdaki Türkiye haritasında numaralarla gösterilen yerlere sanayi tesisi kurulacaktır.

Sanayi tesislerinin ham maddesi kurulduğu bölgeden karşılanacağına göre, numaralandırılmış yerlere hangi fabrikalar kurulmalıdır?

| | 1 | 2 | 3 | 4 |
|-----------------|--------------|--------|--------------|--------------|
| A) Demir-Çelik | Demir-Çelik | Fındık | Balık | Otomotiv |
| B) Dokuma | Dokuma | Kağıt | Süt | Çay |
| C) Fındık yağı | Fındık yağı | Dokuma | Ayçiçek yağı | Süt ürünleri |
| D) Ayçiçek yağı | Ayçiçek yağı | Kağıt | Dokuma | Süt |

10) İlk Türk devletlerinde evlenen kız ve erkeğe düğün töreni yapılması, kutlamalarda davul ve zurna kullanılması gibi uygulamalar günümüz Türk toplumunda da görülmektedir.

Bu durum aşağıdakilerden hangisine örnek olarak gösterilebilir?

- a) Anadolu'da güçlü devletler kurulduğunun
b) Türk sanatının evrenselliğine
c) Türklerin gelenek ve göreneklerine bağlı olduğuna
d) Türkler arasında İslamiyet'in yayıldığına

11) İçinde insanı ilgilendiren ve topluma ait tüm unsurların incelendiği tarih, coğrafya, sosyoloji, felsefe, hukuk gibi bilim dallarının genel adına "sosyal bilimler" denilmektedir. **Buna göre aşağıdakilerden hangisi sosyal bilimlerin inceleme alanına girmez?**

- A) Ülkemizin doğal kaynakları
B) Toplumsal gelişmenin seyri
C) Kurtuluş Savaşı'nın sonuçları
D) Organ nakli yöntemlerinin geliştirilmesi

12) Nitelikli elemanlar işini en iyi şekilde yapan, işlerinin özelliklerini bilen, eğitim görmüş kişilerdir.

Aşağıdakilerden hangisi nitelikli elemanın ülke ekonomisi açısından yararları arasında gösterilemez?

- A) Daha fazla enerji ve zaman harcanarak üretim sağlanır. B)
Teknolojik alanın yabancı ülkelere bağımlı olması önlenir.
C) Malzeme ve emekten tasarruf sağlanır.
D) Ulusal gelirin gereksiz yere harcanması önlenir.

13)

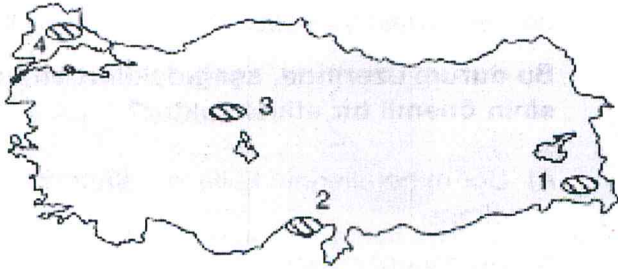
?

- Devlet Su İşleri
- Ziraat Bankası
- Toprak Mahsulleri Ofisi
- Tarım İşletmeleri Genel Müdürlüğü
- Tarım Kredi ve Tarım Satış Kooperatifleri

Yukarıda verilen maddelere verilebilecek **en uygun başlık** aşağıdakilerden hangisidir?

- a) Türkiye'de Tarımı Destekleyen Kurumlar
b) Türkiye'deki Tarımın Başlıca Sorunları
c) Tarımsal Verimi Artıran Faktörler
d) Atatürk Döneminde Kurulan Tarımsal İşletmeler

14) Yurdumuzda seracılık, kışları ılık ve bol güneşli geçen iklim bölgelerinde yapılan bir faaliyettir.



Buna göre, haritadaki taralı yörelerin hangisinde seracılık faaliyetlerinin yapılması **en kolaydır?**

- a) 1 b) 2 c) 3 d) 4

15) Aşağıda yer alan ürünlerden hangisi ülkemizin ihracatında önemli bir yere sahiptir?

- A) Hazır giyim eşyaları (Tekstil) B) Eczacılık ürünleri
C) Doğal gaz D) Petrol

16) Aşağıdaki madenlerden hangisinin Dünya genelindeki rezervlerinin büyük bölümü ülkemizde bulunmaktadır?

- a) Bor mineralleri b) Petrol
c) Çinko d) Krom

17) Aşağıdaki sorular "DOĞRU-YANLIŞ" sorularıdır. Verilen önerme doğru ise parantez içine (D) yanlış ise (Y) yazınız.

- a) (D) Demokrasî'de devletin tüm kurumları halkın seçtiği yöneticilerin kontrolündedir.
b) (Y) Yabancı bir ülkeden mal alınmasına ihracat denir.
c) (Y) Devletin din kurallarına göre yönetilmesine demokrasi denir.
d) (Y) Ülkemizde yetiştirme alanı ve üretim miktarı en fazla olan muzdur.
e) (D) Fındığın en çok yetiştiği bölgemiz Karadeniz'dir.

18) Aşağıdaki sorular "TANIM" sorularıdır. Kavramın tanımını, açıklamasını karşısına yazınız.

VERGİ NEYE DENİR..

İhracat nedir...

19) Aşağıdaki sorular "BOŞLUK DOLDURMA" sorularıdır. Boş bırakılan yere uygun olan sözcükleri, kavramları yazınız.

Meslek / Maden / Marmara / Rezerv / Karahanlılar

- a) Ülkemizde, sanayi tesislerinin en yoğun olduğu yer Bölgesi'dir..
b) İnsanların geçimini sağlamak için yaptığı sürekli işedenir.
c) İslamiyet'i kabul eden ilk Türk devleti'dır.
d) Yeraltında bulunan ve ekonomik değer taşıyan maddelere denir.
e) Bir madenin yeraltında bulunan toplam miktarına denir.

CEVAP

| | A | B | C | D |
|----|---|---|---|---|
| 1 | | | | |
| 2 | | | | |
| 3 | | | | |
| 4 | | | | |
| 5 | | | | |
| 6 | | | | |
| 7 | | | | |
| 8 | | | | |
| 9 | | | | |
| 10 | | | | |
| 11 | | | | |
| 12 | | | | |
| 13 | | | | |
| 14 | | | | |
| 15 | | | | |
| 16 | | | | |

KUTUSU

D:..... Y:..... P:.....

Son soru 10 diğerleri 5 er puandır