

CEVAP ANAHTARI

ADI- SOYADI:
SINIFI:

NO:
2019-2020 EĞİTİM-ÖĞRETİM YILI BAHTİYAR VAHAPZADE ORTAOKULU
FEN BİLİMLERİ DERSİ 5. SINIF 1. DÖNEM 1. YAZILI SORULARI



ATAM İZİNDEYİZ...

1. Aşağıdaki ifadelerin doğru mu, yanlış mı olduğunu parantez içlerine (D) ve (Y) harfleri kullanarak yazınız. (10 puan)

- 2p A (Y) Dolunay evresinde, Ay yarım daire şeklinde görünür.
2p B (D) Dolunaydan sonra sondördün evresi yaşanır.
4p C (Y) Aya ayak basan ilk insan Yuri GAGARİN ' dir.
2p D (Y) Ay kendi etrafında dolanma Dünya'nın etrafında dönme hareketi yapar.
2p E (Y) Ay'da ince bir atmosfer olduğu için tüm doğa olayları görülebilir.

2. Aşağıda verilen cümlelerdeki boşlukları uygun kelimelerle doldurunuz. (10 puan)

- 2p A) Dünya 'nın Güneş etrafındaki tam bir dönüş süresi 1 yıl dir.
1p B) Ay yüzeyinde meteorların çarpması sonucu oluşan çukurlara krater denir.
2p C) Güneş çoğunlukla hidrojen ve helyum gazlarından oluşur.
2p D) Güneş' in geometrik şekli küre ye benzer.
2p E) Dünya 'nın kendi eksenini etrafındaki dönüş yönü batıdan dan doğuya doğrudur.



3. Merhaba Arkadaşlar,

Ben AY. Şu anda beni 'D' harfi gibi görüyorsunuz değil mi? Sağ yanımla parlak . Arkadaşım Jüpiter 'e bazı sorular sordum. Acaba sen de bu soruları cevaplar mısın?

(5X2= 10 puan)

- A) Benim şu andaki evrimin adı nedir? Cevap: ilk dördün
B) Bu gün 3 Ocak ise hangi tarihte Dolunay evresi görülür? 10 Ocak

4. Aşağıdaki tabloda boş bırakılan yerleri doldurunuz. (10X2 = 20 puan)



5. Aşağıda verilen çoktan seçmeli soruların doğru cevabını işaretleyiniz. (5X10=50 puan)

1. Yanda resmi verilen ve gökyüzünü incelemek için kullanılan araç aşağıdakilerden hangisidir?



- A) Mikroskop B) Teleskop
C) Dürbün D) Kamera


2. Dünya'dan bakıldığı zaman Ay'ın sürekli aynı yüzünün görülmesi aşağıdakilerden hangisinin sonucudur?

- A) Ay'ın çekim gücünün Dünya'dan az olması
 B) Ay'ın Dünya'dan daha küçük olması
C) Ay'ın kendi çevresinde ve Dünya çevresindeki dönüş süresinin aynı olması
D) Ay gününün Güneş gününden uzun olması

3. Dünya'dan bakan bir kişi Güneş ve Ay'ı hemen hemen aynı büyüklükte görür. Bunun sebebi nedir?


- A) Ay'ın şeklinin küre olması
B) Güneş ve Ay'ın aynı uzaklıkta olması
 C) Cisimlerin uzaklaştıkça daha küçük görünmesi
D) Dünya'nın kendi etrafında dönmesi

4. Vücudum sert pullarla kaplıdır. Yumurtlaya çoğalırım. Omurgalı ve sürüngen bir hayvanım. Bilin bakalım ben kimim?



Timsah

köpek



Tavuk

Yengeç

5. Bilim adamlarının canlıları sınıflandırmışlardır. Bu sınıflandırma hangi seçenekte doğru verilmiştir?

- A) Bitkiler, Hayvanlar, Omurgalılar
B) Bitkiler, Hayvanlar, Mantarlar
 C) Bitkiler, Hayvanlar, Mantarlar, Mikroskopik Canlılar
D) Bitkiler, Hayvanlar, Mikroskopik Canlılar

6. Mantarlar ile ilgili aşağıdaki ifadelerden hangileri doğrudur?

1. Hepsi gözle görülebilir.
2. Bitkiler sınıfında yer alırlar.
3. Bazı türleri el ve ayakta kaşıntı yapar.
4. Hamur mayalamak için bazı türlerinden faydalanılır.

- A) 1 ve 2 B) 3 ve 4 C) 2 ve 3 D) 1, 2 ve 4

7. Aşağıdakilerden hangisi kuşlara ait yanlış bir ifadedir?

- A) Yumurta ile çoğalırlar
B) Vücutları tüy ile kaplıdır.
C) Yavrularına bakarlar.
 D) Başkalaşım geçirirler

8.

1	2	3
Pelikan	Kertenkele	At
4	5	6
Yılan	İnek	Balık

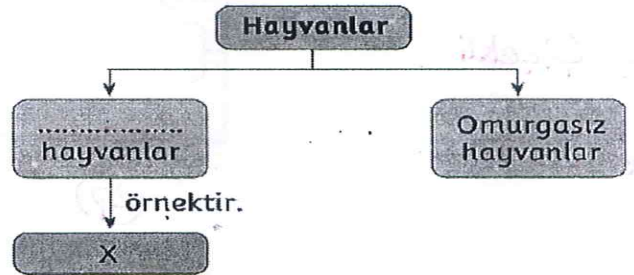
- Yukarıdaki tabloda numaralarla gösterilen canlılardan hangileri yavrularına bakar?

- A) 1, 2 ve 4 B) 4, 5 ve 6
 C) 1, 3 ve 5 D) 2, 3 ve 5

9. Gözle görülemeyecek kadar küçük, ancak mikroskop adı verilen araçla gözlemlenebilen canlılara mikroskopik canlılar adı verilir. Buna göre aşağıda verilen canlılardan hangisi mikroskopik canlılara örnek verilemez?

- A) Amip B) Terliksi hayvan
 C) Karınca D) Öglena

10.



- Yukarıda X ile gösterilen hayvan aşağıdakilerden hangisi olabilir?

- A) Kelebek B) Solucan
C) Akrep D) Yılan